



ITL PUBLIC SCHOOL
PRE MID TERM EXAMINATION (2024-25)

DATE: 13.09.24

GERMAN

Class: V

TIME: 2 hours

M.M: 50

NAME:

Invigilator's Sign :





Roll No:





General Instructions:

1. Read the question paper carefully.
2. All the questions are mandatory.
3. Show proper calculations and make a column for the rough work on the right side of the answer sheet.

SECTION – A (20 Marks)

SECTION – A (20 Marks)		
Q.1	Write the Numbers in words:	(4X1=4)
a)	29	1
b)	35	1
c)	37	1
d)	60	1
Q.2	Fill in the blanks with Wer? Or Was?	(4X1=4)
a)	__ ist das? __ ist ein Geschenk.	1
b)	__ ist das? __ ist Henna.	1
c)	__ ist das? __ ist Palavi.	1
d)	__ ist das? __ ist ein Ballon.	1
Q.3	Translate the Words in German:	(4X1=4)
a)	Stars	1
b)	Candles	1
c)	Months	1
d)	July	1
Q.4	Unjumble the Words:	(4X1=4)
a)	NAURAJ	1
b)	HJRA	1
c)	WHECNO	1
d)	LAOLH	1
Q.5	Make Questions for the following Answers:	(4X1=4)
a)	_____ ? Nein, ich bin Sara.	1
b)	_____ ? Nein, das nicht Rahul.	1
c)	_____ ? Ja, das ist Hanna.	1
d)	_____ ? Nein, das ist kein Pinsel.	1
SECTION – B(10 Marks)		

Q.6	Was ist richtig ? (What is correct? Write the correct option.)	(4X1=4)
a)	Englisch ____ 1. Frau 2. Lehrerin	1
b)	Kranken ____ 1. haus 2. baum	1
c)	Das ist ____ Schrank. 1. keine 2. kein	1
d)	Ist das ____ Herr Singh? 1. nicht 2. kein	1
Q.7	Answer the following Question with Ja oder Nein – kein/keine	(4X1=4)
a)	Ist das eine Kerze? 	1
b)	Ist das ein Direktor? 	1
c)	Ist das ein Schrank? 	1
d)	Ist das ein Taschenrechner? 	1
Q.8	Answer the following questions in one Word:	(2X1=2)
a)	Find out the odd one out: b, ä, i, z	1
b)	What is the 12 th month of the year?	1
SECTION – C (20 Marks)		20
Q.9	Fill in the blanks with kein or keine	(4X1=4)
a)	Ist das eine Geburtstagstorte? Nein, das ist __ Geburtstagstorte.	1
b)	Sind das Sterne? Nein, das sind __ Sterne.	1
c)	Sind das Ballons? Nein, das sind __ Ballons.	1

d)	Ist das ein Glas? Nein, das ist __ Glas.	1															
Q.10	Write the Names of the Pictures	(4X1=4)															
a)		1															
b)		1															
c)		1															
d)		1															
Q.11	Write the Names of 4 things which you have in Your Home.	(4X1/2=2)															
Q.12	Calculate and write the answer in words:	(4X1=4)															
a)	43 + 31	1															
b)	37 + 30	1															
c)	50 – 11	1															
d)	58 – 6	1															
Q.13	Complete the table with the Articles:	(12X1/2=6)															
	<table border="1"> <tr> <td>Definit</td> <td>__Klassenzimmer</td> <td>__Klasse</td> <td>__Füller</td> <td>__Mäppchen</td> </tr> <tr> <td>Indefinit</td> <td>__Torte</td> <td>__ Monat</td> <td>__Morgen</td> <td>__Monate</td> </tr> <tr> <td>Negativ</td> <td>__ Kuli</td> <td>__Auto</td> <td>__Farbe</td> <td>__Farben</td> </tr> </table>	Definit	__Klassenzimmer	__Klasse	__Füller	__Mäppchen	Indefinit	__Torte	__ Monat	__Morgen	__Monate	Negativ	__ Kuli	__Auto	__Farbe	__Farben	
Definit	__Klassenzimmer	__Klasse	__Füller	__Mäppchen													
Indefinit	__Torte	__ Monat	__Morgen	__Monate													
Negativ	__ Kuli	__Auto	__Farbe	__Farben													
a)																	